



وزارة التربية

الإدارة العامة لمنطقة مبارك الكبير التعليمية

كنترول مبارك الكبير

امتحانات الفصل الدراسي الأول  
٢٠٢٠ / ٢٠١٩

الصف	السابع
المادة	الاجتماعيات





وزارة التربية

امتحان نهاية الفصل الدراسي الأول

العام الدراسي : ٢٠١٩/٢٠٢٠م

الزمن : ساعة و ٤٥ دقيقة

مقرر / الدراسات الاجتماعية الكويت والوطن العربي

الإدارة العامة لمنطقة مبارك الكبير التعليمية

عدد الأوراق : ( ٦ )

للفص السابع المتوسط

التوجيه الفني للاجتماعيات

\*\*\*\*\*

السؤال الأول ( موضوعي ) : يتكون من ( أ - ب - ج - د - هـ - و ) : ( لكل إجابة درجة ١ × ٣٦ = ٣٦ درجة )

( أ ) ضع خطأً تحت الخيار الصحيح من بين الخيارات التي تلي كل عبارة مما يأتي :

١- نسبة مساحة الوطن العربي من جملة مساحة العالم يمثلها الدائرة البيانية التي تحمل الحرف : ص ٢٣



د



ج



ب



أ

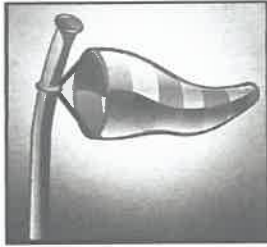
٢- الدولة العربية التي يمر بها خط الاستواء : ص ٣١

د- الصومال

ج- المغرب

ب- ليبيا

أ- تونس



٣- الصورة التي أمامك تمثل عنصر من عناصر المناخ : ص ٤٥

ب - الامطار

أ - الرياح

د - درجة الحرارة

ج - الرطوبة

٤- عدد الحروف في الكتابة المسمارية : ص ٨٣

د - ٨٠٠ حرف

ج - ٧٠٠ حرف

ب - ٦٠٠ حرف

أ - ٥٠٠ حرف

٥- يطلق على البحرين قديما : ص ٨٩

د - تدمر

ج - أوال

ب - سبأ

أ - بابل

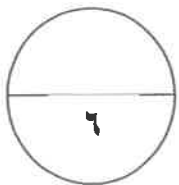
٦- العام الذي أنزل فيه القرآن الكريم على سيدنا محمد صلى الله عليه وسلم : ص ٩٠

د - ٦٤٠م

ج - ٦٣٠م

ب - ٦٢٠م

أ - ٦١٠م



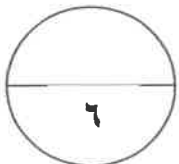
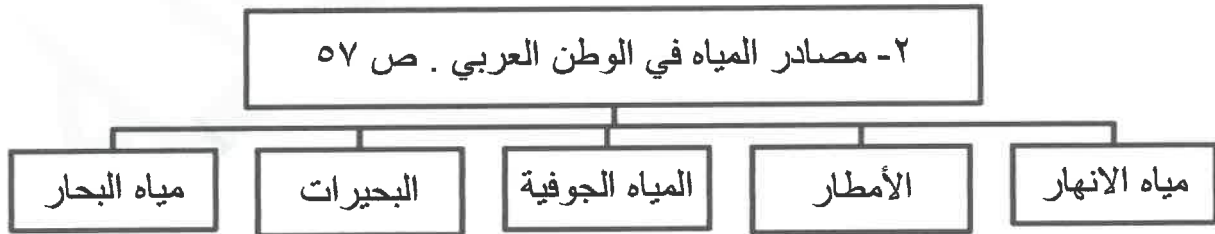
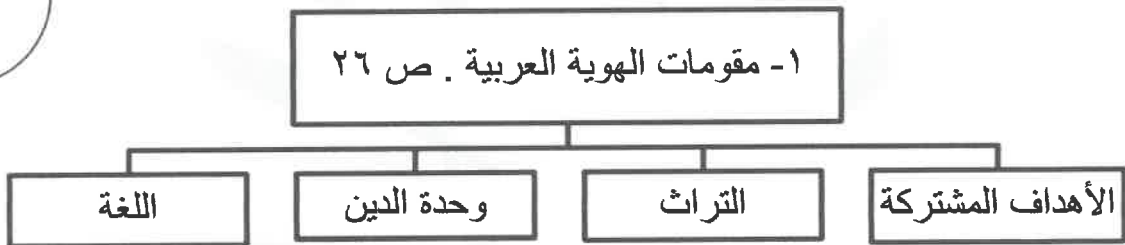
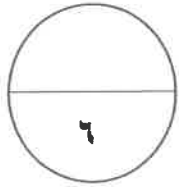
تابع / السؤال الأول :

(ب) أكمل العبارات الآتية بما يناسبها :

- ١- الدولة التي انضمت حديثا لجامعة الدول العربية عام ١٩٩٣م تسمى : **جزر القمر** . ص ٢٣
- ٢- تشرف على قناة السويس دولة عربية تسمى . **مصر** ص ٢٨
- ٣- الدولة العربية التي يقع فيها جبال الحجاز تسمى : **السعودية** ص ٣٨
- ٤- عرفت الكتابة المصرية القديمة باسم : **الكتابة الهيروغليفية** . ص ٧٧
- ٥- يطلق اسم بلاد الرافدين أو بلاد ما بين النهرين على دولة عربية تسمى : **العراق** . ص ٧٩
- ٦- الصورة التي أمامك تمثل معلم ديني يسمى : **مكة المكرمة - الكعبة** . ص ٩١



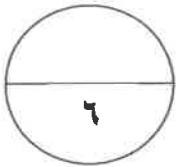
(ج) أكمل المخططات السهمية التالية :



تابع / السؤال الأول :

( د ) أكتب المفاهيم أو المصطلحات الدالة على العبارات التالية :

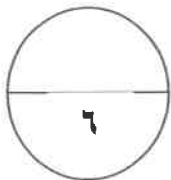
م	المفهوم أو المصطلح	العبرة
١	الوطن العربي ص ٢٢	- مجموعة الدول العربية التي يجمعها عدد من السمات المشتركة ( الدين واللغة ) ويمتد ضمن قارتين من أكبر قارات العالم مساحة .
٢	الموقع الاستراتيجي ص ٢٨	- أي موقع ذي مكانة مهمة بين دول العالم .
٣	النبات الطبيعي ص ٥١	- النبات الذي ينمو تلقائيا عقب سقوط المطر دون تدخل من الانسان .
٤	الحضارة ص ٧١	- كل ما يطرأ على المجتمع من تقدم ورقي في جميع نواحي الحياة الدينية والسياسية والاقتصادية والفكرية.
٥	البحيرة ص ٦٠	- مسطح مائي تحيط به اليابسة من جميع الاتجاهات .
٦	الضغط الجوي ص ٤٤	- وزن الهواء فوق أي مكان .



( هـ ) صنف الجبال في الوطن العربي حسب الجدول التالي :

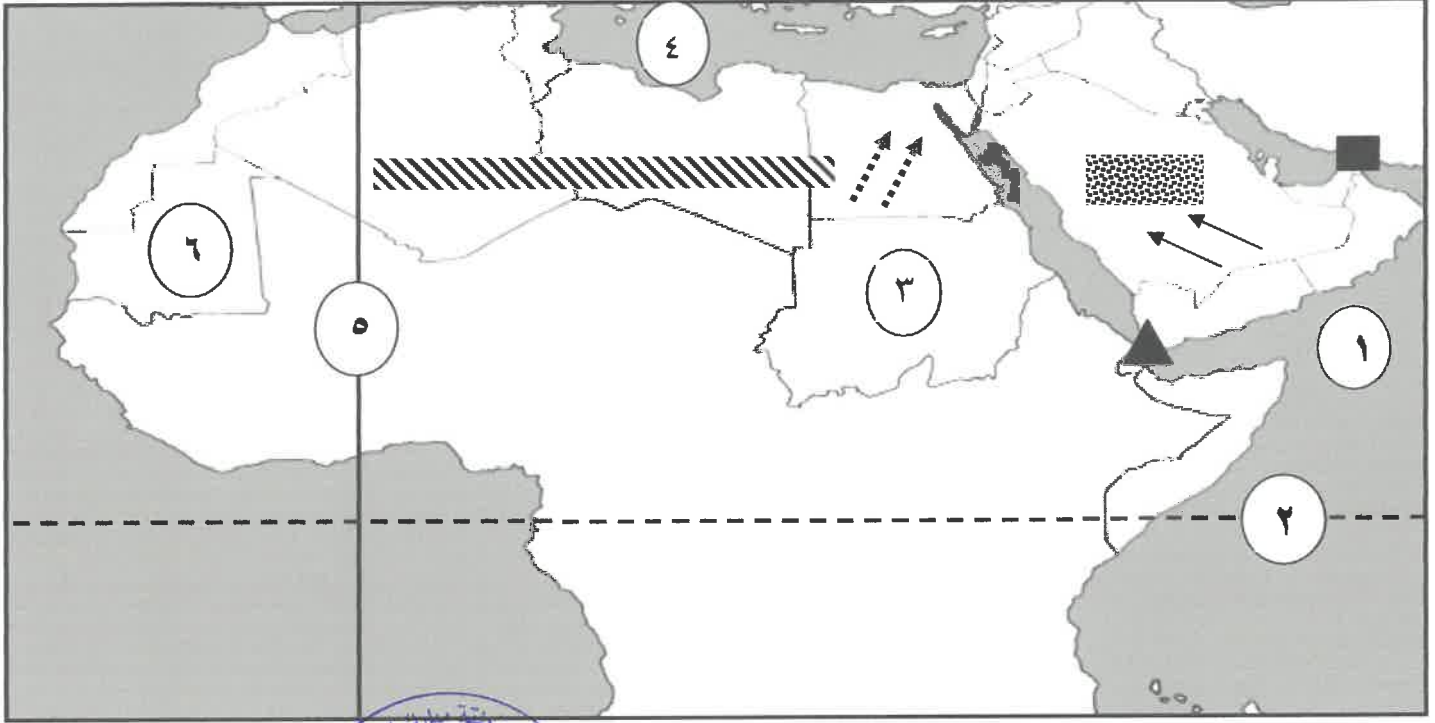
( جبال عسير - جبل مرة - جبال البحر الاحمر - جبل قاسيون - جبال أطلس - جبال الأحجار )

الجناح الآسيوي ص ٣٨	الجناح الأفريقي ص ٣٨
جبال عسير - جبل قاسيون	جبل مرة - جبال البحر الاحمر - جبال أطلس - جبال الأحجار

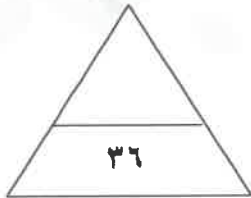


تابع / السؤال الأول :

( و ) أمامك خريطة الوطن العربي الصماء أكتب الرقم أو الرمز الدال على الأسئلة التالية :



- بحر العرب يمثله على الخريطة الرقم ( ١ ) ص ٥٨
- دولة السودان يمثّلها على الخريطة الرقم ( ٣ ) ص ٣٣
- مضيق باب المندب يمثله في الخريطة الرمز ( ▲ ) ص ٢٨
- رياح السموم يمثّلها على الخريطة الرمز ( ↖ ) ص ٤٨
- هضبة نجد يمثّلها على الخريطة الرمز ( ■ ) ص ٤٠
- خط غرينتش يمثله على الخريطة الرقم ( ٥ ) ص ٣١



الدرجة بالحروف : .....

**السؤال الثاني (المقال) يتكون من ( أ - ب - ج ) :**

**( أ ) اقرأ الفقرة الآتية ثم أجب عن الأسئلة التي تليها :**

" يمتد الوطن العربي من المحيط الأطلسي غربا إلى بحر العرب والخليج العربي شرقا ومن خط الاستواء إلى البحر المتوسط شمالا ، هذا الاتساع الكبير لمساحة الوطن العربي ترتب عليه تنوع في أشكال سطح الأرض أو كما تعرف باسم التضاريس والتي من أهم أشكالها (السهول - الجبال - الهضاب) ."

- ١- عرف - ما تحته خط .  
 \* مساحة كبيرة من سطح الأرض تتميز باستوائها وقلة ارتفاعها . ص ٤٢ (درجة)  
 ٢- فرق بين كلا من .

السهول الساحلية ص ٤٢	السهول الفيضية ص ٤٢
هي الأراضي المنبسطة التي تجاوز سواحل البحار والمحيطات . (درجة)	هي الأراضي المنخفضة التي تكونت من التربة التي حملتها مياه الأنهار . (درجة)

**(ب) قارن بين كلا مما يلي :**

الإستبس ص ٥٢	السافانا ص ٥٢	وجه المقارنة
- حشائش قصيرة نوعا ما تنمو في الشتاء خلال موسم سقوط الأمطار (درجة)	- حشائش طويلة يختلف نوعها حسب كمية الامطار (درجة)	المميزات
- الأغنام - الأبل الخيل - الحمير . (درجة)	- الماشية (درجة)	الحيوانات التي تربي في الاقليم

**( ج ) عدد مايلي :**

- ١- مراكز انتقال الحضارة العربية الإسلامية إلى أوروبا . (درجتان يكتفى بإجابتين) ص ٩٢  
 \* بلاد الاندلس . \* صقلية . \* الاحتلال الصليبي لبلاد الشام .  
 ٢- الديانات السماوية التي انتشرت في أنحاء العالم . (٣ درجات) ص ٩٠  
 \* الديانة اليهودية . الديانة المسيحية . \* الديانة الإسلامية .





**السؤال الثالث ( المقالى ) يتكون من ( أ - ب - ج ) :**

**( أ ) لاحظ الصورة التي أمامك ثم أجب عما يلي :**

١- أكتب - اسم الشخصية في الصورة . (درجة) ص ٨٤  
\* حمورابي .

٢- أكمل - الحضارة التي ظهر فيها تسمى :

\* بلاد الرافدين - بلاد ما بين النهرين (درجة) ص ٧٩

٣- دلل - انتشار الامن والأمان في البلاد في عهده . ص ٨٤

\* احتوت الشريعة على ٢٨٢ مادة قانونية إعتمدت على مبدأ السن بالسن و العين بالعين في التطبيق . (درجة)

**(ب) فرّق بين كل مما يلي :**

المضيق ص ٢٨	القناه ص ٢٨
ممر مائي ضيق يصل بين بحرين أو محيطين أو أي مساحتين كبيرتين نسبيا من الماء . (درجة)	مجرى مائي صناعي ضيق يشق لأغراض الري أو النقل . (درجة)
الطقس ص ٤٤	المناخ ص ٤٤
حالة الجو في مكان لمدة قصيرة تتراوح بين عدة أيام من حيث درجة الحرارة والرطوبة والأمطار والرياح والضغط الجوي . (درجة)	حالة الجو خلال فترة زمنية طويلة من حيث درجة الحرارة والرطوبة والأمطار . (درجة)

**(ج) أكتب فيما يلي :**

١- تعد منطقة جنوب غرب شبه الجزيرة العربية من أكثر المناطق ملائمة لقيام الحضارة. ص ٨٥ (درجتان)

\* توافر المياه العذبة والمناخ المناسب لقيام الزراعة . \* الموقع الذي يسمح بقيام النشاط التجاري فيها .

٢- مقومات الحضارة الأساسية . ص ٧٣ (٣ درجات - يكتفى ٣ إجابات)

\* الموقع الاستراتيجي . \* توافر مصادر المياه العذبة . \* اعتدال المناخ . \* توافر الثروات الطبيعي .

\* توافر العنصر البشري .